

SOL Garçons





















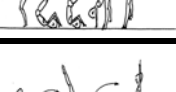

















Ville / Académie

Collège / Lycée

Elève :

Projet d'enchaînement :

Difficultés	
.....	D X 0,50 =
.....	C X 0,40 =
.....	B X 0,30 =
.....	A X 0,20 =
Note sur 3 :	

Difficultés		A = 0.20	B = 0.30	C = 0.40	D = 0.50
RL	1				
	2				
RA	3				
	4				
RR	5				
	6				
	7				
	8				
	9				
ATR	10				

Composition	
RL Rotation longitudinale	0,40 pt
RA Une rotation avant	0,40 pt
RR Une rotation arrière	0,40 pt
ATR Passage à l' ATR	0,40 pt
Impression générale jusqu' à 0,40 /	

Exécution	
	5,00
	-
	Note sur 5

Total des éléments constatés / 3

Composition / 2

Exécution / 5

Note / 10

Pénalités : -

Note Finale

